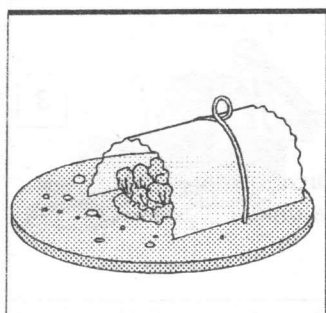
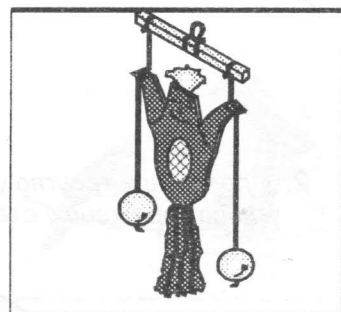


Аутор
Милан Санадер

ПРОВЕРИ СВОЈЕ ЗНАЊЕ



5. РАЗРЕД



ПРЕЗИМЕ И ИМЕ:

РАЗРЕД И ОДЕЉЕЊЕ:

ДАТУМ:

ПРЕ ПРОВЕРЕ ЗНАЊА ПАЖЉИВО ПРОЧИТАЈ:

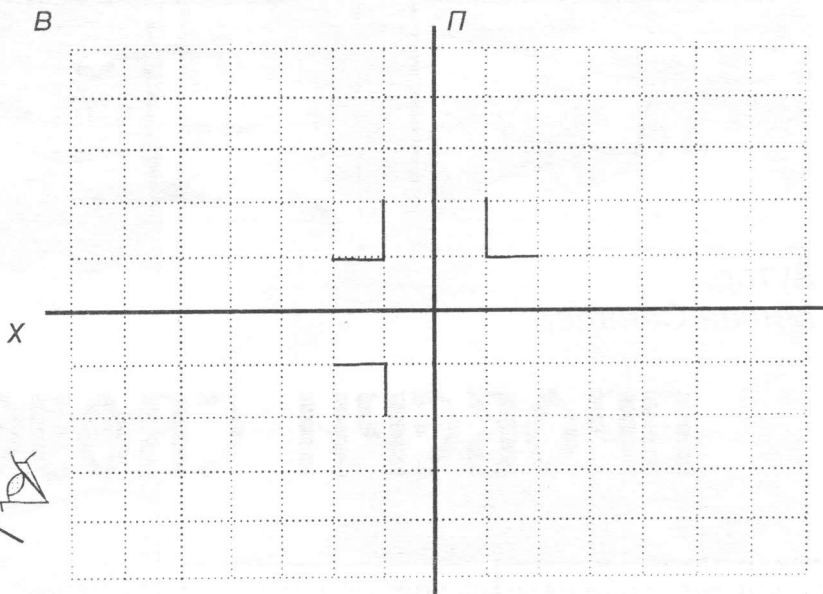
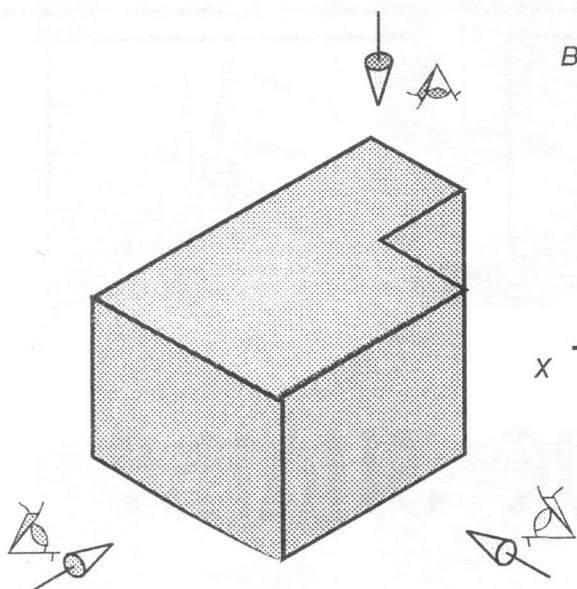
1. Питања и задаци су различите тежине што је исказано бројем бодова датих у квадратићу са десне стране.

2. При давању одговора или решавању задатака крени од оних за које си сигуран (на) да знаш, али пре него што оставиш траг на папиру размисли да ли би и неки други одговор могао бити тачан.

3. У оквиру овог теста наилазићеш на питања и задатке постављене тако да одговоре и решења можеш дати на један од следећих начина:

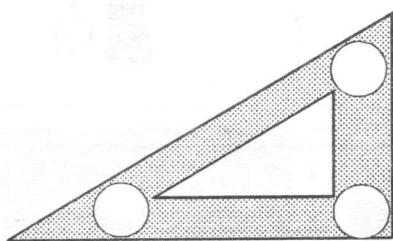
- Заокруживањем тачног од више понуђених одговора,
- Повезивањем више понуђених питања са тачним одговором уписујући иза питања слово испред тачног одговора,
- Допуњавањем или довршавањем започете реченице или цртежа,
- Уписивањем текста на датим линијама,
- Скицирањем или цртањем захтеваног изгледа,
- Израчунавање вредности тражене величине,

1. Изометријски дати предмет прикажи у ортогоналном изгледу уз правилан избор врста линија.



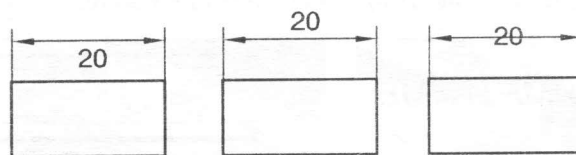
3

2. У приказани троугао упиши вредности углова изражене у степенима.



2

3. Котни број исписан на хоризонталној котној линији правилно је унет на слици



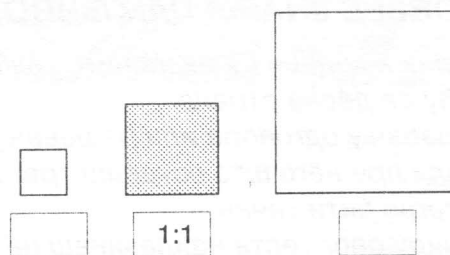
А

Б

В

2

4. Ако је квадрат у средини нацртан у размери 1:1, упиши размеру у којој су нацртани квадрати са леве и десне стране.



5. Полазећи од боје као критеријума за избор врсте дрвета јасен ћеш препознати по:

- а) жуто-смеђој боји
- б) тамно црвеној боји
- в) беличастој или бледоружи-
честој боји

2

6. Стиропор (полистирол)

- а) не упија влагу
- б) упија влагу

1

