

8. разред ГРАФИЧКО И МАТЕРИЈАЛНО ОБЛИКОВАЊЕ СТРУЈНИХ КОЛА

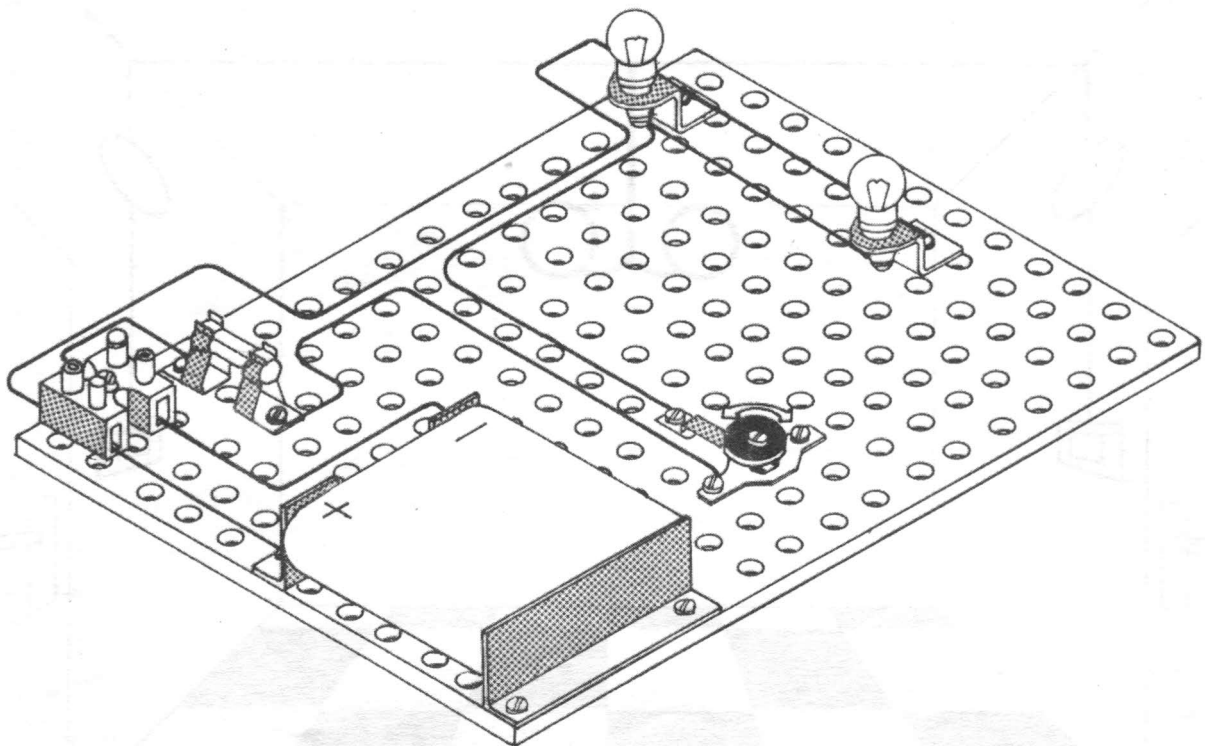

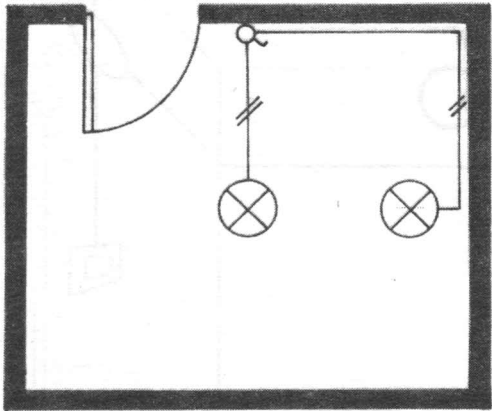
Електротехнички елементи и уређаји са приказаним симболима називају се
(испиши њихове називе):

		<hr style="border: 0; border-top: 1px solid black;"/>			<hr style="border: 0; border-top: 1px solid black;"/> <hr style="border: 0; border-top: 1px solid black;"/>
		<hr style="border: 0; border-top: 1px solid black;"/>			<hr style="border: 0; border-top: 1px solid black;"/> <hr style="border: 0; border-top: 1px solid black;"/>
		<hr style="border: 0; border-top: 1px solid black;"/> <hr style="border: 0; border-top: 1px solid black;"/>			<hr style="border: 0; border-top: 1px solid black;"/>
		<hr style="border: 0; border-top: 1px solid black;"/> <hr style="border: 0; border-top: 1px solid black;"/>			<hr style="border: 0; border-top: 1px solid black;"/>
		<hr style="border: 0; border-top: 1px solid black;"/>			<hr style="border: 0; border-top: 1px solid black;"/>

Користећи приказане симболе графички прикажи одговарајуће струјно коло

------------------	--

Материјално обликуј струјно коло приказано на основи,
у изгледу и на моделу



МНГ С.